

1009

Всероссийская олимпиада школьников 2023-2024 учебный год  
Школьный этап. ОБЖ, 9 классы, ЗАДАНИЯ  
Время выполнения 45 мин+ 15 минут. Максимальное кол-во баллов – 100+100=200

ТЕОРЕТИЧЕСКИЕ ЗАДАНИЯ

ЗАДАНИЕ 1. Максимальный балл -30

1.1. Заполните таблицу

Характер нарушения	Признаки и симптомы
Частичная непроходимость дыхательных путей, сознание сохранено.	Сильный кашель, утрудненное дыхание, издается за горло
Полная непроходимость дыхательных путей, дыхание сохранено	не может дышать и говорить, издается за горло, кожа синеват.
Удушье, потеря сознания.	не дышит, не реагирует на толчки, цветная кожа

1.2. Перечислите признаки и симптомы инсульта

1.3. Перечислите признаки и симптомы проникающего ранения грудной клетки:

ЗАДАНИЕ 2. Максимальный балл - 25

2.1. Заполните таблицу названиями ядовитых растений леса

Название растения	Рисунок растения	Название растения	Рисунок растения
1 Белладонна Красавка		2 Воск Адонис Лили	
3 Клевер		4 Белена Черная	
5 Вороний глаз		6 Вороний глаз Сосновое	

195  
6-00-9

Всероссийская олимпиада школьников 2023-2024 учебный год  
Школьный этап. ОБЖ, 9 классы, ЗАДАНИЯ  
Время выполнения 45 мин+ 15 минут. Максимальное кол-во баллов – 100+100=200  
Разработчик: Чмиль Ирина Борисовна, КГПУ им В.П. Астафьева

ТЕОРЕТИЧЕСКИЙ ТУР

Шифр

--	--

ТЕОРЕТИЧЕСКИЕ ЗАДАНИЯ

ПРЕДМЕТНАЯ СЕКЦИЯ «ОБЕСПЕЧЕНИЕ ЛИЧНОЙ БЕЗОПАСНОСТИ В ПОВСЕДНЕВНОЙ ЖИЗНИ»

ЗАДАНИЕ 1 (максимальный балл -30)

1.1. Заполните таблицу

Характер нарушения	Признаки и симптомы
Частичная непроходимость дыхательных путей, сознание сохранено.	Сильный кашель, пострадавший хрипит, руками хватается за горло.
Полная непроходимость дыхательных путей, дыхание сохранено	не в состоянии говорить, длительно руками хватается за горло, лицо синеват.
Удушье, потеря сознания.	не дышит, не реагирует на внешние раздражители. Выпученный зрачок зрачок.

1.2. Перечислите признаки и симптомы инсульта

- Внезапная слабость или онемение лица, руки или ноги, обычно с одной стороны.
- Затруднение с речью или ее полная потеря.
- Внезапная сильная головная боль.
- головокружение или состояние замешательства.
- бесознательное состояние
- зрачки разного размера.

1.3. Перечислите признаки и симптомы проникающего ранения грудной клетки:

- затрудненное дыхание.
- кровянистые из открытого ранит грудной клетки, рана
- слышимый звук, исходящий из раны при каждом вдохе.
- очевидная деформация характерная для перелома.
- кровохарание.

---

---

---

---

---

---

---

---

---

---

Оценочные баллы: максимальный – 30 баллов; фактический - \_\_\_\_ баллов  
 Подписи членов жюри \_\_\_\_\_






**ЗАДАНИЕ 2. (максимальный балл - 25)**

**2.1. Заполните таблицу ядовитых растений леса**

Название растения	Рисунок растения	Название растения	Рисунок растения
1 Белладонна (красавка)		2 Вех ядовитая	
3 Кислицца		4 Белена черная	
5 Вороний глаз		6 Бруслик сосновский	
7 Толстячок			

**2.2. Заполните таблицу ядовитых домашних растений**

Название растения	Рисунок растения	Название растения	Рисунок растения
1 Амарант		2 Диффенбахия	

3 Кротон		4 Алоказия	
5 Азалия		6	
7 Молокай			

2.3. Дайте определение ядовитым растениям.

Это растение которое вырабатывают токсичные вещества (фитотоксины), опасны для здоровья и жизни человека.

2.4. Какую первую помощь необходимо оказать пострадавшему при отравлении ядовитыми растениями?

При большинстве отравлений первая помощь должна сводиться к скорейшему удалению содержимого желудочно-кишечного тракта (обильное промывание, дача слабительных), срочному удалению приёма внутрь асборбирующих.

Оценочные баллы: максимальный – 25 баллов; фактический – \_\_\_\_ баллов  
Подписи членов жюри \_\_\_\_\_

**ЗАДАНИЕ 3. (максимальный балл - 30)**

**3.1. Дайте определение:**

**Социум –**

Это особая система, некоторый организм, развивающийся по своим специфическим законам, характеризующийся чрезвычайной сложностью.

**3.2. Перечислите опасные социально-политические явления:**

- войны
- этнические конфликты
- терроризм
- забастовки, пикеты, массовые беспорядки;
- экстремизм

**3.3. Перечислите опасные социально-экономические явления:**

- безработица
- инфляция
- низкий уровень обеспечения нетрудоспособных граждан
- бедность
- коррупция

**3.4. Дайте определение:**

**Конфликту**

называют столкновение противоположных, порой противоположных интересов, действий, взглядов отдельных личностей.

**3.5. Перечислите виды политического конфликта:**

Войны, вооруженный конфликт, вооруженная борьба, инциденты.

Оценочные баллы: максимальный – 30 баллов; фактический - \_\_\_\_ баллов  
Подписи членов жюри \_\_\_\_\_

**ТЕСТОВЫЕ ЗАДАНИЯ**

№	1	2	3	4	5	6	7	8	9	10	11	12	13	14	15
ответ	В	А	Б	Б	Д	Г	Г	В	Б	Г	А	В	Г	Б	Б

Оценочные баллы: максимальный – 15 баллов; фактический - \_\_\_\_ баллов  
Подписи членов жюри \_\_\_\_\_

Оценочные баллы: максимальный – 100 баллов; фактический - \_\_\_\_ баллов

Подпись председателя жюри \_\_\_\_\_

**ЗАДАНИЕ 3. Максимальный балл - 30**

**3.1. Дайте определение:**

**Социум** – это совокупность людей, организованных в социальную структуру с общими интересами, нормами, ценностями, целями и задачами.

**3.2. Перечислите опасные социально-политические явления:** Воровство (капитализм, коррупция)

**3.3. Перечислите опасные социально-экономические явления:** Безработица, инфляция, дефицит, разрыв между уровнем жизни и возможностями.

**3.4. Дайте определение:**


**Конфликт** - это столкновение интересов, взглядов, действий.

**3.5. Перечислите виды политического конфликта:**

Внутрипартийный, межпартийный, общественный конфликт.








**ТЕСТОВЫЕ ЗАДАНИЯ**

№ п/п	Вопрос		ответы
1	На сколько градусов отличаются азимуты юго-востока и юго-запада: А) 180°; Б) 135°; В) 90°; Г) 45°.	1	Б
2	Основной способ передачи возбудителя гриппа: А) воздушно-капельный; Б) контактный; В) инъекционный; Г) пищевой	1	А
3	Покрывало спасательное изотермическое накладывается серебристой стороной внутрь (к пострадавшему) при? А) тепловом ударе; Б) переохлаждении; В) солнечном ударе; Г) значительном повышении температуры тела при инфекционных заболеваниях	1	Б
4	Основными загрязнителями поверхностных вод являются: А) синтетические моющие средства; Б) нефть и нефтепродукты; В) сточные воды; Г) пестициды.	1	Б
5	При получении сигнала оповещения о радиационной аварии, находясь на улице, первым делом необходимо: А) защитить органы дыхания; Б) добежать до дома; В) провести йодную профилактику; Г) позвонить в полицию.	1	А
6	Что из перечисленного НЕ является мероприятием первой медицинской помощи? А) наложение давящей повязки на рану при венозном кровотечении; Б) наложение шины при закрытом переломе голени; В) непрямой массаж сердца при отсутствии пульса; Г) самостоятельное вправление вывиха.	1	Г
7	Если вы, находясь на замёрзшем водоёме, почувствовали, что под вами проваливается лёд, то как вы будете	1	Б

7 Волче лыко			
--------------------	---	--	--

Вех ядовитый, Белена черная, Борщевик Сосновского, Клещевина, Белладонна (красавка), Вороний глаз, Волче лыко

**2.2. Заполните таблицу названиями ядовитых комнатных растений**

Название растения	Рисунок растения	Название растения	Рисунок растения
1 Алоказия		2 Диффенбахия	
3 Кротон		4 Алоказия	
5 Азалия		6	
7 Молочай			

Диффенбахия, Кротон, Азалия, Алоказия, Аглаонема, Молочай, Монстера

2.3. Дайте определение ядовитым растениям. Ядовитые растения - растения, которые содержат в своих тканях вещества, вызывающие при употреблении в пищу отравление.

2.4. Какую первую помощь необходимо оказать пострадавшему при отравлении ядовитыми растениями?

Как правило, при отравлении ядами комнатных растений (даже свадийва кудзавина, содержащая яд в корнях и стеблях, а также в листьях), необходимо вызвать рвоту (если отравление произошло в течение последних 3 часов), промыть желудок, принять активированный уголь, сорбенты, при необходимости обратиться к врачу.

	<b>передвигаться, чтоб не провалиться?</b> А) пробежите этот отрезок быстро вперед; Б) бегом назад; В) шагом вперед, не поднимая ног, почти скользя; Г) назад ползком на четвереньках или по-пластунски.		
8	<b>Наибольшей энергетической ценностью обладают</b> А) белки; Б) углеводы; В) жиры; Г) минеральные вещества.	1	Б...
9	<b>Большое затопление местности в результате подъема уровня воды в водоёме – это...</b> А) половодье; Б) наводнение; В) разлив; Г) потоп	1	Б.
10	<b>Какие бывают переломы конечностей?</b> А) тайный; Б) внутренний; В) наружный; Г) закрытый, открытый.	1	Г...
11	<b>Что не относится к основным видам экстремальных ситуаций в природных условиях?</b> А) Потеря ориентировки на местности; Б) Резкое изменение природных условий; В) Смена климатогеографических условий; Г) Вынужденное автономное существование.	1	А
12	<b>Укажите наиболее опасные последствия аварий и катастроф.</b> А) Селевые потоки, оползни; Б) Ураганы, бури, смерчи; В) Взрывы, пожары, затопления, заражение окружающей среды ядовитыми и радиоактивными веществами; Г) Эпидемии, эпифитотии.	1	Б...
13	<b>По масштабу распространения чрезвычайные ситуации классифицируются на:</b> А) локальные, местные, муниципальные; Б) межмуниципальные, региональные, межрегиональные; В) региональные, межрегиональные, федеральные; Г) локальные, муниципальные, межмуниципальные, региональные, межрегиональные, федеральные.	1	Г...
14	<b>Здоровый образ жизни – это:</b> А) мировоззрение человека, которое складывается из знаний о здоровье; Б) индивидуальная система поведения человека, направленная на сохранение и укрепление здоровья; В) система жизнедеятельности человека, в которой главной составляющей является отказ от вредных привычек; Г) достаточная двигательная активность и правильное питание.	1	Б
15	<b>К какой группе здоровья относятся дети со сниженной сопротивляемостью организма, у которых отсутствуют</b>	1	Б.



3009

Всероссийская олимпиада школьников 2023-2024 учебный год  
Школьный этап. ОБЖ, 9 классы, ЗАДАНИЯ  
Время выполнения 45 мин+ 15 минут. Максимальное кол-во баллов – 100+100=200

ТЕОРЕТИЧЕСКИЕ ЗАДАНИЯ

ЗАДАНИЕ 1. Максимальный балл -30

1.1. Заполните таблицу

Характер нарушения	Признаки и симптомы
Частичная непроходимость дыхательных путей, сознание сохранено.	Сильный кашель пострадавший хрипит, руками хватается за горло
Полная непроходимость дыхательных путей, дыхание сохранено	не в состоянии говорить, дышать, руками хватается за горло, лицо синее
Удушье, потеря сознания.	не дышит, не реагирует на внешние раздражители, выпячены цианоз губ, зрачки сужены или расширены.

1.2. Перечислите признаки и симптомы инсульта


1.3. Перечислите признаки и симптомы проникающего ранения грудной клетки:

затрудненное дыхание, кровохарканье, сильная боль в груди, выделение крови, цианоз губ, учащенный пульс, холодные конечности, потеря сознания.

ЗАДАНИЕ 2. Максимальный балл - 25








2.1. Заполните таблицу названиями ядовитых растений леса

Название растения	Рисунок растения	Название растения	Рисунок растения
1 Тополь-дождик (чирок)		2 Воск извилистый	
3 Клевер-вишня		4 Белена черная	
5 Вороний глаз		6 Тополь-шубник Сосновского	

7 b		Волчье лыко
--------	---	-------------

Вех ядовитый, Белена черная, Борщевик Сосновского, Клещевина, Белладонна (красавка), Вороний глаз, Волчье лыко

### 2.2. Заполните таблицу названиями ядовитых комнатных растений

Название растения	Рисунок растения	Название растения	Рисунок растения
1 Ишпанская		2 Диффенбахия	
3 Кротон		4 Алоказия	
5 Азалия		6	
7 Молочай			

Диффенбахия, Кротон, Азалия, Алоказия, Аглаонема, Молочай, Монстера

2.3. Дайте определение ядовитым растениям. ~~то что~~ ядовитыми называют такие растения,

2.4. Какую первую помощь необходимо оказать пострадавшему при отравлении ядовитыми растениями?

2.3 которые вырабатывают токсичные вещества, опасные для здоровья и жизни человека  
2.4 первая помощь должна сводиться к скорейшему удалению содержимого желудочно-кишечного тракта, сопровождаемому приемом внутрь адсорбентов (активированный уголь)

**ЗАДАНИЕ 3. Максимальный балл - 30**

3.1. Дайте определение:

**Социум** – это совокупность людей, которые образуют определенную социальную группу, взаимодействующую по своим интересам с другими группами.

3.2. Перечислите опасные социально-политические явления: терроризм, экстремизм, пафетизм.

3.3. Перечислите опасные социально-экономические явления: безработица, инфляция, бедность.

3.4. Дайте определение:

**Конфликт** – столкновение интересов, позиций, мнений, интересов, действий.

3.5. Перечислите виды политического конфликта: война, вооруженная провокация, инцидент, вооруженный конфликт.

**ТЕСТОВЫЕ ЗАДАНИЯ**

№ п/п	Вопрос		ОТВЕТЫ
1	На сколько градусов отличаются азимуты юго-востока и юго-запада: А) 180°; Б) 135°; В) 90°; Г) 45°.	1	В
2	Основной способ передачи возбудителя гриппа: А) воздушно-капельный; Б) контактный; В) инъекционный; Г) пищевой	1	А...
3	Покрывало спасательное изотермическое накладывается серебристой стороной внутрь (к пострадавшему) при? А) тепловом ударе; Б) переохлаждении; В) солнечном ударе; Г) значительном повышении температуры тела при инфекционных заболеваниях	1	Б...
4	Основными загрязнителями поверхностных вод являются: А) синтетические моющие средства; Б) нефть и нефтепродукты; В) сточные воды; Г) пестициды.	1	Б...
5	При получении сигнала оповещения о радиационной аварии, находясь на улице, первым делом необходимо: А) защитить органы дыхания; Б) добежать до дома; В) провести йодную профилактику; Г) позвонить в полицию.	1	А...
6	Что из перечисленного НЕ является мероприятием первой медицинской помощи? А) наложение давящей повязки на рану при венозном кровотечении; Б) наложение шины при закрытом переломе голени; В) непрямой массаж сердца при отсутствии пульса; Г) самостоятельное вправление вывиха.	1	Г...
7	Если вы, находясь на замёрзшем водоёме, почувствовали, что под вами проваливается лёд, то как вы будете	1	В...

	<b>передвигаться, чтоб не провалиться?</b> А) пробежите этот отрезок быстро вперёд; Б) бегом назад; В) шагом вперёд, не поднимая ног, почти скользя; Г) назад ползком на четвереньках или по-пластунски.		Г
8 f	<b>Наибольшей энергетической ценностью обладают</b> А) белки; Б) углеводы; В) жиры; Г) минеральные вещества.	1	В...
9 f	<b>Большое затопление местности в результате подъема уровня воды в водоёме – это...</b> А) половодье; Б) наводнение; В) разлив; Г) потоп	1	Б...
10 f	<b>Какие бывают переломы конечностей?</b> А) тайный; Б) внутренний; В) наружный; Г) закрытый, открытый.	1	Г...
11 —	<b>Что не относится к основным видам экстремальных ситуаций в природных условиях?</b> А) Потеря ориентировки на местности; Б) Резкое изменение природных условий; В) Смена климатогеографических условий; Г) Вынужденное автономное существование.	1	Б...
12 f	<b>Укажите наиболее опасные последствия аварий и катастроф.</b> А) Селевые потоки, оползни; Б) Ураганы, бури, смерчи; В) Взрывы, пожары, затопления, заражение окружающей среды ядовитыми и радиоактивными веществами; Г) Эпидемии, эпифитотии.	1	Б.
13 —	<b>По масштабу распространения чрезвычайные ситуации классифицируются на:</b> А) локальные, местные, муниципальные; Б) межмуниципальные, региональные, межрегиональные; В) региональные, межрегиональные, федеральные; Г) локальные, муниципальные, межмуниципальные, региональные, межрегиональные, федеральные.	1	А...
14 f	<b>Здоровый образ жизни – это:</b> А) мировоззрение человека, которое складывается из знаний о здоровье; Б) индивидуальная система поведения человека, направленная на сохранение и укрепление здоровья; В) система жизнедеятельности человека, в которой главной составляющей является отказ от вредных привычек; Г) достаточная двигательная активность и правильное питание.	1	Б...
15 f	<b>К какой группе здоровья относятся дети со сниженной сопротивляемостью организма, у которых отсутствуют</b>	1	Б

<p>хронические заболевания, а также дети, часто (4 раза в год и более) и длительно болеющие (более 25 дней по одному заболеванию)?</p> <p>А) К 4-й группе; Б) Ко 2-й группе; В) К 1-й группе; Г) К 3-й группе.</p>		6
--	--	---

135.

59

59 400-6

Всероссийская олимпиада школьников 2024-2025 учебный год  
Школьный этап. ОБЖ, 5-6 классы, ЗАДАНИЯ, ТЕОРИЯ  
Время выполнения 45 мин. Максимальное кол-во баллов – 100

Все ответы перенести в бланк для ответов!

**ЗАДАНИЕ 1. Максимальный балл – 30.**

Дайте определение:

Опасная ситуация –

Безопасность –

Заполните таблицу:

Какие виды опасностей нас могут подстерегать?

Причина опасности	Последствия
огонь	+ пожар
пьяное вождение, ДТП	- авария
природа	например: - молнии
газ	замыкание -
Вора полагает катехнику	Взрыв +
цунами	затопление, можно утонуть
холод	+ Заморозку от морозов

Заполните схему:







**ЗАДАНИЕ 2. Максимальный балл – 20.**

Заполните таблицу, вставив название грибов. Ядовитые грибы отметьте +

- Опенок
- Сыроежка
- Мухомор
- Волнушка
- Бледная поганка


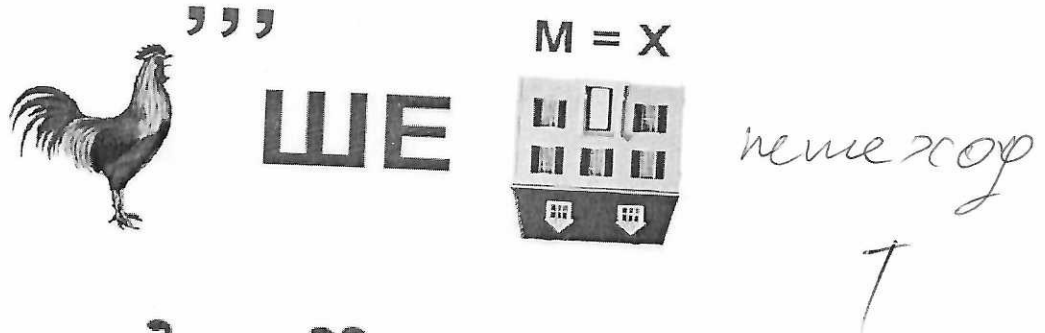
Лесные грибы	
Название гриба	Рисунок гриба
1 мухомор +	

<p>2</p> <p>Волнушка +</p>	
<p>3</p> <p>Сыроежка +</p>	
<p>4</p> <p>Бледная поганка +</p>	
<p>5</p> <p>Опенок +</p>	

20

ЗАДАНИЕ 3. Максимальный балл – 35.  
3.1. Разгадайте ребусы.






3.2. Распределите дорожные знаки по группам:

Запрещающие знаки: 3, 4 +  
Предупреждающие знаки: 2, 6, 1, 5, 4 +  
Предписывающие знаки: 5, 2, 3, 4 +



Задание 3.3. Объясните сигналы регулировщика:



Дайте определение: регулировщик ПДД - а) можно ехать  
б) можно повернуть  
в) нельзя ехать



## ТЕСТОВЫЕ ЗАДАНИЯ

№ п/п	Вопрос		ответы
1	Где находится родина первого в мире светофора? А) в Голландии Б) в России В) в Англии Г) в Италии	—	1 А)
2	Сколько сигналов имеет светофор для пешеходов? А) один Б) два В) три Г) ни одного	+	1 Б)
3	Если светофор не исправен, кто регулирует движение на проезжей части? А) инспектор ГИБДД Б) регулировщик В) полицейский Г) дорожный рабочий	+	1 Б)
4	Можно ли ходить по обочине дороги: А) нельзя в темное время суток, в светлое — можно Б) можно, если на дороге нет автомобилей В) если нет тротуара, то можно идти по обочине навстречу транспорту Г) если нет тротуара, то можно идти по обочине по ходу движения транспорта	—	1 Г)
5	Какой перекресток называется регулируемым: А) на котором есть специальное объявление Б) на котором есть регулировщик или установлен светофор В) на котором нарисована зебра Г) каждый перекресток.	+	1 Б)
6	Ты зашёл в подъезд, услышал громкие голоса и понял, что выше находится пьяная компания. Что делать? А) вернусь к друзьям; Б) буду ждать знакомого соседа и попрошу проводить до квартиры; В) буду ждать, пока компания уйдёт; Г) буду кричать на улице	+	1 Б)
7	Что делать, если на человеке загорелась одежда? А) дуть на горящую одежду; Б) горящего человека надо остановить любым способом - грозно окрикнуть, повалить наземь, набросить любую плотную ткань; В) забросать землёй; Г) полить обильно водой.	—	1 Г)
8	При вызове службы безопасности сообщите следующие сведения: А) адрес соседей; Б) адрес, объект (во дворе, в квартире, в подвале и т.д.), номер	+	1 Б)

	дома, подъезда, квартиры, свою фамилию и телефон; В) только причину обращения в службу безопасности; Г) только номер дома.		
9	<b>Единый номер вызова экстренной службы.</b> А) 103; Б) 101; В) 102; Г) 112.	+	1
10	<b>Что такое ЧС?</b> А) частная собственность; Б) это обстановка, сложившаяся на определенной территории в результате аварии, опасного природного явления, катастрофы, стихийного бедствия, которая может повлечь за собой человеческие жертвы, ущерб окружающей среде, нарушение условий жизнедеятельности людей; В) честное слово; Г) событие техногенного характера.	+	1
11	<b>Как вы понимаете слово «жизнедеятельность»? Выберите правильный ответ:</b> А) пребывание; Б) наслаждение; В) обретение; Г) существование	+	1
12	<b>К чему может привести, если использовать электроприбор с поврежденной изоляцией шнура?</b> А) сгорит прибор; Б) сгорят предохранители; В) к короткому замыканию из-за чего может произойти пожар Г) к депрессии.	+	1
13	<b>Какой вид транспорта представляет наибольшую опасность?</b> А) Автомобильный Б) Железнодорожный В) Воздушный Г) Водный	+	1
14	<b>Дополните фразу: «Ситуации, в которых нарушена или фактически невозможна нормальная жизнедеятельность большого количества людей на большой территории, называется _____»</b> А) опасной Б) экстремальной В) обычной Г) чрезвычайной	+	1
15	<b>Что необходимо предпринять при пищевом отравлении?</b> А) следует прополоскать рот марганцовкой и плотно поесть Б) следует прополоскать рот пищевой содой и выпить крепкий сладкий чай с сухарями В) следует быстро удалить пищу из желудка: выпить несколько стаканов воды и вызвать рвоту (эффект двух пальцев) Г) выпить слабый раствор уксусной кислоты.	-	1

ТЕОРЕТИЧЕСКИЙ ТУР

*Уважаемый участник Олимпиады!*

Вам предстоит выполнить теоретические и тестовые задания.

*Выполнение теоретических заданий целесообразно организовать следующим образом:*

- не спеша, внимательно прочитайте задание и определите, наиболее верный и полный ответ;
- отвечая на теоретический вопрос, обдумайте и сформулируйте конкретный ответ только на поставленный вопрос;
- если вы отвечаете на задание, связанное с заполнением таблицы или схемы, не старайтесь детализировать информацию, вписывайте только те сведения или данные, которые указаны в вопросе;
- особое внимание обратите на задания, в выполнении которых требуется выразить ваше мнение с учетом анализа ситуации или поставленной проблемы. Внимательно и вдумчиво определите смысл вопроса и логику ответа (последовательность и точность изложения). Отвечая на вопрос, предлагайте свой вариант решения проблемы, при этом ответ должен быть кратким, но содержать необходимую информацию;
- после выполнения всех предложенных заданий еще раз удостоверьтесь в правильности выбранных вами ответов и решений и перенесите их в бланк ответов.

*Выполнение тестовых заданий целесообразно проводить следующим образом:*

- не спеша, внимательно прочитайте тестовое задание;
- определите, какой из предложенных вариантов ответа наиболее верный и полный;
- обведите кружком букву, соответствующую выбранному вами ответу;
- продолжайте таким образом работу до завершения выполнения тестовых заданий;
- после выполнения всех предложенных заданий еще раз удостоверьтесь в правильности выбранных вами ответов и перенесите их в бланк ответов;
- если потребуется корректировка выбранного Вами варианта ответа, то неправильный вариант ответа зачеркните крестиком, а новый выбранный ответ обведите кружком.

Предупреждаем Вас, что:

- при оценке тестовых заданий, где необходимо определить *один правильный ответ*, 0 баллов выставляется как за неверный ответ, а также, если участником отмечены несколько ответов (в том числе правильный), или все ответы;
- при оценке тестовых заданий, где необходимо определить *все правильные ответы*, 0 баллов выставляется, если участником отмечены более 2-х ответов, или все ответы (в том числе правильные).

Задание теоретического тура считается выполненным, если Вы вовремя сдаете его членам жюри.

*Желаем вам успеха!*

Общая оценка результата участника 100 баллов

**ЗАДАНИЕ 1. Максимальный балл – 30.**

Дайте определение:

Опасная ситуация -

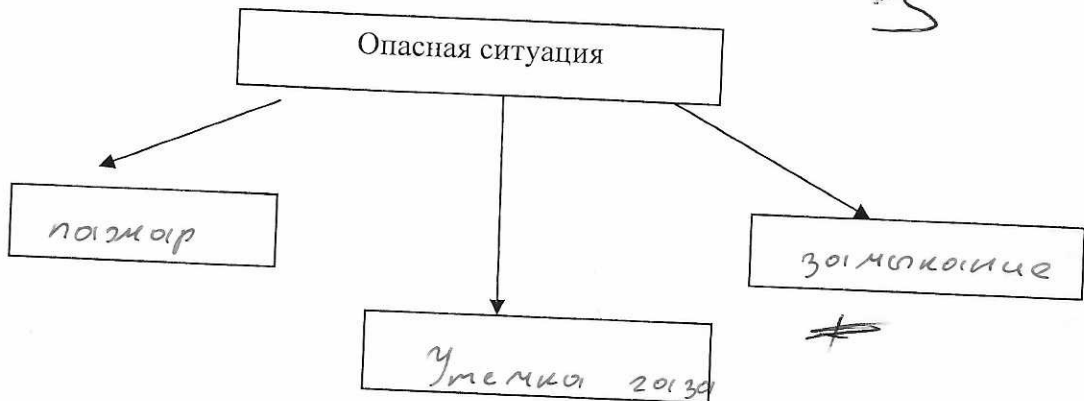
Безопасность -

Заполните таблицу:

Какие виды опасностей нас могут подстерегать?

Причина опасности	Последствия
огонь	пожар
Происшествия природа	авария
воспаление	стихийное бедствие
газ	замыкание
	затопление, можно утонуть
холод	обморожение

Заполните схему:







**ЗАДАНИЕ 2. Максимальный балл – 20.**

Заполните таблицу, вставив название грибов. Ядовитые грибы отметьте +

- Опенок
- Сыроежка
- Мухомор
- Волнушка
- Бледная поганка

Лесные грибы

Название гриба	Рисунок гриба
1 Мухомор +	

<p>2</p> <p>Волюшки</p> <p>†</p>	
<p>3</p> <p>Споровики</p> <p>†</p>	
<p>4</p> <p>Бледная поганка</p> <p>†</p>	
<p>5</p> <p>Опенок</p> <p>†</p>	


ЗАДАНИЕ 3. Максимальный балл – 35.  
3.1. Разгадайте ребусы.

20




пережор

†




пешеход

f  
2




3.2. Распределите дорожные знаки по группам:

Запрещающие знаки: 3, 7, 10 -  
 Предупреждающие знаки: 1, 8, 11, 12 -  
 Предписывающие знаки: 2, 5, 6 1 -



Задание 3.3. Объясните сигналы регулировщика:



Дайте определение: регулировщик ПДД -

ТЕСТОВЫЕ ЗАДАНИЯ			
№ п/п	Вопрос		ответы
1 +	<b>Где находится родина первого в мире светофора?</b> А) в Голландии Б) в России В) в Англии Г) в Италии	1	...
2 +	<b>Сколько сигналов имеет светофор для пешеходов?</b> А) один Б) два В) три Г) ни одного	1	...
3 +	<b>Если светофор не исправен, кто регулирует движение на проезжей части?</b> А) инспектор ГИБДД Б) регулировщик В) полицейский Г) дорожный рабочий	1	...
4 +	<b>Можно ли ходить по обочине дороги:</b> А) нельзя в темное время суток, в светлое — можно Б) можно, если на дороге нет автомобилей В) если нет тротуара, то можно идти по обочине навстречу транспорту Г) если нет тротуара, то можно идти по обочине по ходу движения транспорта	1	...
5 +	<b>Какой перекресток называется регулируемым:</b> А) на котором есть специальное объявление Б) на котором есть регулировщик или установлен светофор В) на котором нарисована зебра Г) каждый перекресток.	1	...
6 -	<b>Ты зашёл в подъезд, услышал громкие голоса и понял, что выше находится пьяная компания. Что делать?</b> А) вернусь к друзьям ; Б) буду ждать знакомого соседа и попрошу проводить до квартиры; В) буду ждать, пока компания уйдёт; Г) буду кричать на улице	1	...
7 -	<b>Что делать, если на человеке загорелась одежда?</b> А) дуть на горящую одежду; Б) горящего человека надо остановить любым способом - грозно окрикнуть, повалить наземь, набросить любую плотную ткань; В) забросать землёй; Г) полить обильно водой.	1	...
8	<b>При вызове службы безопасности сообщите следующие сведения:</b> А) адрес соседей; Б) адрес, объект (во дворе, в квартире, в подвале и т.д), номер	1	...